

Do the given assignment in your English Grammar book.

Worksheet - 6

READING

A Read this poem carefully.

I'm a little bear cub  
Soft and brown  
Here is my den  
Where I can be found.  
When the winter's over  
Hear me shout  
"Spring is here  
I can't wait to go out!"



B. Answer these questions.(pg no-33)

1. What colour is the bear cub ?

Ans: The bear cub is brown in colour.

2. Where does the bear cub live?

Ans: The bear cub lives in a den.

3. The bear cub can't wait to do what ?

Ans: The bear cub can't wait to go out.

4. What do you think the bear cub does during winter season?

Ans: The bear cub lives inside its den during winter season.

5. The bear cub will shout 'Spring is here' because

(b) he is happy.

GRAMMAR AND WORDS

- \* **Prepositions of place** tell us where something or someone is.
- \* Common prepositions of place → in, on, at, behind, under, over, in front of, between
  - at the market; between the chair and the wall; in front of the mirror; over the building; behind the curtain

C. Complete these sentences with the correct words from the box.(pg no- 34)

[ behind, under, between, on, over, in front of ]

1. Puja is sitting between her cats.



2. The hat is under the stool.



3. The kangaroo jumped over the fence.



4. Mani is singing in front of the entire school.



5. The vase is on the table.



6. The lamp is behind the sofa.

D. Look at this picture carefully. Complete the sentences with the correct words.( pg no-35)



It is Sunday. Everyone is at ( on/ at) the park.

Rohan is playing hide-and-seek with his grandmother.

He is hiding behind ( at / behind) a tree.

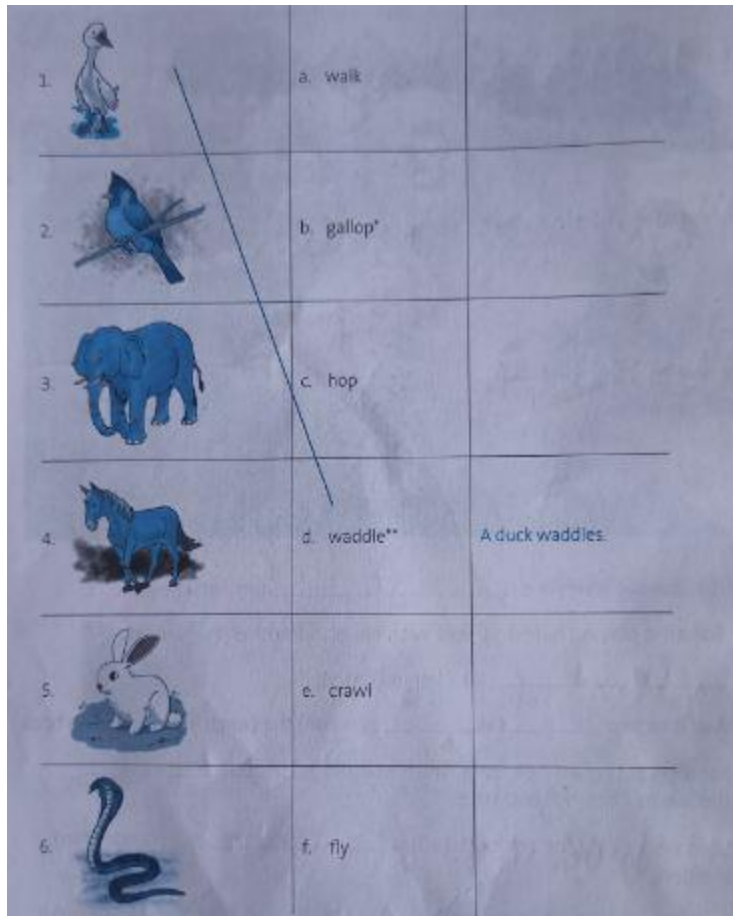
Asif is sitting on ( in / on )the bench. He is reading a book.

Mona is eating an ice cream. She is standing between ( between / behind ) two trees.

Leena is looking for her football. It is under ( under / in ) the bench.

Look! The monkey is jumping over ( over / on ) the bush.

E. Match the animals with the correct actions and make complete sentences.( pg no- 36)



- Answer:
- |    |   |           |                     |
|----|---|-----------|---------------------|
| 1. | - | d) waddle | - A duck waddles    |
| 2. | - | f) fly    | - A bird flies      |
| 3. | - | a) walk   | - An elephant walks |
| 4. | - | b) gallop | - A horse gallops   |
| 5. | - | c) hop    | - A rabbit hops     |
| 6. | - | e) crawl  | - A snake crawls    |

## WRITING

H. The little bear cub likes spring. Complete these sentences to write about your favourite season.

1. My favourite season is winter season.
2. I like winter season because we go out to play.
3. I like to go on a picnic during this season.
4. I wear woolen clothes.
5. I like to eat hot, delicious food during this season.

(Pg no-37)

X

X

विशेष –कार्य–16

कक्षा–दूसरी ( 2020–21 )

विषय –हिंदी

पाठ–8 नई दिवाली

पाठमाला

प्रश्न 1. शब्दों के अर्थ याद करके कॉपी में लिखो।

भर्ती –दाखिल होना	परेशान –दुखी
हालत –स्थिति	योजना –उपाय
गुजरा –पास से निकला	अनायास–अचानक
लड़ी –लाइन , पंक्ति	क्रोध –गुस्सा
होश खो बैठा –घबरा गया	

प्रश्न 2. प्रश्नों के उत्तर याद करके कॉपी में लिखो।

1. रात को जब नमन घर पहुँचा तो पड़ोसी ने क्या बताया ?

उत्तर –रात को जब नमन घर पहुँचा तो पड़ोसी ने उसको पापा के अस्पताल में भर्ती होने की बात बताई ।

2. अस्पताल में पहुँचकर नमन ने क्या देखा ?

उत्तर – अस्पताल में पहुँचकर नमन ने अपने पापा के शरीर पर बहुत सी पट्टियाँ और प्लास्टर लगा हुआ देखा ।

3. नमन ने पापा से क्या पूछा ?

उत्तर– नमन ने पापा से दिवाली के त्योहार के दिन अस्पताल में पड़े रहने का कारण पूछा ।

4. नमन और उसके दोस्तों ने क्या कसम खाई ?

उत्तर– नमन और उसके दोस्तों ने शरारत भरी दिवाली न मनाने की कसम खाई ।

5. इस कहानी से आपको क्या सीख मिलती है ?

उत्तर— इस कहानी से हमें यही शिक्षा मिलती है कि हमें बिना किसी को नुकसान पहुँचाये और प्रदूषण रहित त्योहार मनानी चाहिए ।

पाठमाला पृष्ठ संख्या 48 में करें ।

ग. बहुवैकल्पिक प्रश्न : सही उत्तर चुनो ।

1. नमन के पापा किसे देखने गए हुए थे ?

बीमार मित्र को ☒ सिनेमा ☐ चिड़ियाघर ☐

2. नमन अपने दोस्तों के साथ क्या मना रहा था ? Type equation here.

दिवाली ☒ होली ☐ ईद ☐

3. उसके पापा किस सवारी से घर आ रहे थे ?

कार से ☐ बस से ☐ स्कूटर से ☒

4. नमन और उसके दोस्तों ने क्या प्रण किया ?

नई दिवाली मनाना ☒ पटाखे जलाना ☐ शरारत करना ☐

पाठमाला पृष्ठ संख्या 48 में करें ।

### भाषा की बात

1. समझो और लिखो –

दिवाली – द् + इ + व् + आ + ल् + ई

त्योहार – त् + य् + ओ + ह् + आ + र् + अ

स्कूटर – स् + क् + ऊ + ट् + अ + र् + अ

नमन – न् + अ + म् + अ + न् + अ

पट्टी – प् + अ + ट् + ट् + ई

2. पढ़ो और लिखो –

खुशी – खुशियाँ

परेशान – परेशानियाँ

कहानी – कहानियाँ

पहेली – पहेलियाँ

पट्टी – पट्टियाँ

छुट्टी – छुट्टियाँ

पाठमाला पृष्ठ संख्या 49 में करें ।

3. पाठ में से ओ ( े ) और औ ( औ ) की मात्रा वाले शब्द चुनकर लिखो ।

चोट

रोना

कौन

दोस्त

और

मौज

#### 4. निम्न शब्दों के उलटे अर्थ लिखो –

नई × पुरानी

दिन × रात

खुशी × उदास

जाना × आना

हँसना × रोना

मित्र × शत्रु

#### अभ्यास – पुस्तिका

अभ्यास – पुस्तिका पृष्ठ संख्या 16 में करें ।

##### प्रश्न 1. नीचे लिखे प्रश्नों के उत्तर लिखो –

क. नमन और उसके दोस्तों ने योजना के अनुसार क्या किया ?

उत्तर – नमन और उसके दोस्तों ने योजना के अनुसार एक स्कूटर आता देख बमों की एक लड़ी में आग लगाकर उसे स्कूटर की ओर फेंका ।

प्रश्न . नमन का मन अपने प्रति क्रोध से क्यों भर गया ?

उत्तर – अपना और अपने मित्रों द्वारा दूसरों को परेशान करने पर हुए हाल के बारे में सोचकर उसका मन अपने प्रति क्रोध से भर गया ।

##### प्रश्न 2. अर्थ लिखकर वाक्य बनाओ ।

क्रोध – गुस्सा

वाक्य – नमन का मन क्रोध से भर गया था ।

योजना – उपाय

वाक्य – नमन और उसके दोस्तों ने मिलकर योजना बनाई ।

अनायास – अचानक

वाक्य – नमन के मुँह से अनायास दर्द भरी आवाज़ आई ।

होश खो बैठना – घबरा जाना

वाक्य – पटाखों की धमाके से स्कूटर सवार होश खो बैठे ।

हालत – स्थिति

वाक्य – चोट लगने से नमन के पापा की हालत खराब हो गई थी ।

अभ्यास – पुस्तिका पृष्ठ संख्या 17 में करें ।

##### प्रश्न 3. पाठ में से चार-चार संज्ञा और सर्वनाम शब्द लिखो –

संज्ञा	सर्वनाम
दिवाली	वह
नमन	उसे
पापा	उसने
स्कूटर	उन्हें

#### प्रश्न 4. दो-दो सामान अर्थ वाले शब्द लिखो –

घर –	गृह	आलय
आँख –	नयन	लोचन
शरीर –	देह	अंग
दोस्त–	मित्र	सखा

### व्याकरण

#### पाठ –8 कैसा ,कितना ( विशेषण )

##### ● इन्हें याद करें।

- संज्ञा अथवा सर्वनाम की विशेषता बताने वाले शब्द को विशेषण कहते हैं।  
जैसे –मीठा ,खट्टा ,लाल ,थोड़ा ,एक ,दो ,आदि।
- कुछ शब्द ' कैसा ' / ' कैसी ' / ' कैसों ' के बारे में बताते हैं ।  
जैसे –हरा ,पीला ,रंगीन ,बड़ा मीठी ,रंगीन ,ऊँचा ,मोटा ,मीठा ,सुंदर ,काली आदि।
- कुछ शब्द 'कितना ' / 'कितने ' / 'कितनी ' के बारे में बताते हैं ।  
जैसे– तीन ,चार ,तीसरा ,कम ,थोड़ी ,अधिक आदि।

##### ● रक्षाबंधन के बारे में पाँच वाक्य कॉपी में लिखो ।

रक्षाबंधन सावन मास की पूर्णिमा के दिन मनाया मनाया जाता है ।

रक्षाबंधन भाई –बहन का त्योहार है ।

इस दिन बहनें, भाइयों के माथे पर तिलक लगाकर उसके कलाई पर राखी बाँधती हैं ।



भाई, बहन को सुंदर उपहार देता है तथा उसकी रक्षा करने का वचन देता है ।  
रक्षाबंधन का त्योहार भाई – बहन के प्यार का प्रतीक है ।

---

ASSIGNMENT NO. 16

STANDARD- II

SUB- MATHS

DATE: 19. 08 .20

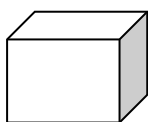
TOPIC – LESSON 5 ( Basic Geometry )

---

**Solid shapes:-** The shapes having 3 dimensions length , breadth and height are called solid shapes. Eg. cube ,cuboid , cone etc.


**1. Write the name of the following solid shapes.**

a)



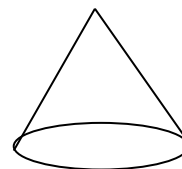
Cube

b)



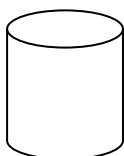
Cuboid

c)




Cone

d)



Cylinder

e)



Sphere

**2. Write the properties of the following solid shapes.**


1.



Cube

It has 6 faces all of which are equal , 8 vertices and 12 edges.

2.



Cuboid

It has 6 faces , 8 vertices and 12 edges. Its opposite faces are equal.

3.



Cone

It has 2 faces- 1 curved surface and 1 flat surface , 1 vertex and 1 edge.

4.



Sphere

It has 1 face that is its curved surface, no vertex and no edge.



5.

**Cylinder**

It has 3 faces – 1 curved surface and 2 flat surfaces(which are equal) , 2 edges and no vertex.

3. Give two examples of each of the following solid shapes.

1



**Cube**



**Dice**



**Ice cube**

2.



**Cuboid**



**Brick**



**Eraser**

3.



**Sphere**



**Globe**



**Football**

4.



**Cylinder**



**Cell**



**Can**

5.



**Cone**



**Birthday Cap**



**Ice- cream cone**

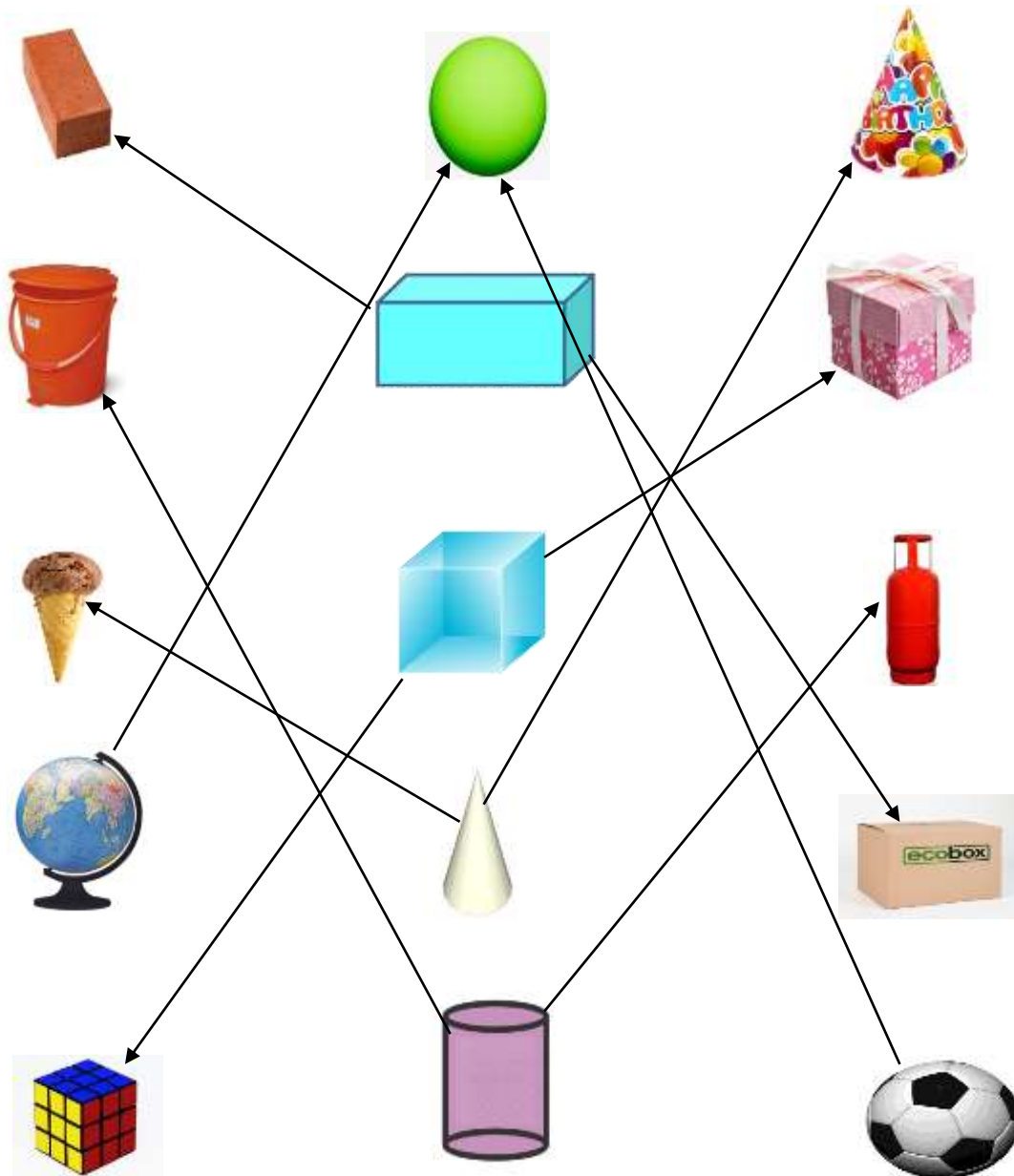
4. Complete the table.

SOLID	FACES	EDGES	VERTICES
CUBOID	6	12	8
CUBE	6	12	8
CONE	2	1	1
SPHERE	1	0	0
CYLINDER	3	2	0

5. Complete the tables.

1.  $4 \times 6 =$  24    2.  $5 \times 8 =$  40    3.  $7 \times 9 =$  63    4.  $9 \times 4 =$  36
5.  $3 \times 9 =$  27    6.  $2 \times 9 =$  18    7.  $8 \times 4 =$  32    8.  $6 \times 5 =$  30
9.  $7 \times 5 =$  35    10.  $4 \times 3 =$  12    11.  $4 \times 7 =$  28    12.  $8 \times 8 =$  64

6. Match the following objects with its shape.



7. Paste the picture of any 4 solid shapes in the scrap book.

Note:- Do page no 74 in your Maths textbook.



## SPECIAL ASSIGNMENT

Class – II

Subject – EVS

Date: 19.8.2020

### **Chapter:- safety first**

#### **1. Missing letters:-**

- a) s a f e t y
- b) p r o t e c t
- c) a c c i d e n t
- d) k n i f e
- e) e l e c t r i c a l
- f) g a d g e t
- g) s h o c k
- h) m a t c h b o x
- i) t r a f f i c
- j) s u b w a y

#### **2. Fill in the blanks with the given words.**

[ moving      zebra      road      careful ]

- a. Cross the road at a zebra crossing.
- b. Do not get out of a moving bus.
- c. Be careful while swimming.
- d. Never play on the road.

#### **3. Define the terms.**

- a. Safety – To protect oneself from any harm is safety.
- b. Accident – An incident occurring suddenly is accident.

#### **4. Answer in one word.**

- a. Always cross the road at
- b. First help for the injured person
- c. Cross the road only when the signal is
- d. Stop your vehicle when the signal is

Ans a) Zebra crossing      b) First- Aid      c) Green      d) Red

#### **5. Give two examples of each.**

- a. Things we should not play with
- b. Things we should play with
- c. Colours of traffic light
- d. Things we should not touch with wet hands

Ans a) Knife, Blade      b) Teddy bear, Toy train      c) Red, Yellow      d) Switches, Electric wires

**6. Answer the following questions.**

- a. Which rules should you follow to avoid accidents?

Ans We should follow safety rules to avoid accidents.

- b. Why should you not touch electrical wires?

Ans We should not touch electrical wires as we may get an electric shock.

- c. What safety measures should you keep in mind while walking on the road ?

Ans Safety measures we should keep in mind while walking on the road are as follows:-

1) Always walk on a foot path.

2) Cross the road at the zebra crossing.

3) Look on both the sides before crossing a road.

- d. Why should you not leave your toys on the floor?

Ans We should not leave our toys on the floor as we might slip over them.

- e. What safety measures should you keep in mind while moving in a bus?

Ans Safety measures we should keep in mind while moving in a bus are as follows

1) Do not disturb the driver.

2) Do not try to get in or get off a moving bus.

3) Do not walk or run inside a moving bus.

**ACTIVITY WORK**

Draw and colour Traffic light

## WEEKLY ASSIGNMENT

CLASS- II

SUBJECT- M.sc

Date: - 19.08.2020

### **LESSON – 5** **“Being Helpful”**

**A.** Learn the following.

- 1) Name any two personalities who devoted their whole life for the Welfare of the people.

**Ans. Raja Ram Mohan Roy and Mother Teresa.**

- 2) Why should we help others?

**Ans:- Helping others makes people happy. We should help others because God has made us able to help those who are in need of it.**

- 3) Who found a large grain of wheat?

**Ans:- A little black ant found a large grain of wheat.**

- 4) Who thanked the good natured ant?

**Ans :- The black ant thanked the good natured ant.**

- 5) How can we help poor and sick people?

**Ans :- We can help poor and sick people by providing them food and medicine according to our capabilities.**

**B.** Tick (✓) the correct sentences and cross (X) the incorrect sentences:-

- 1) Helping each other is the motto of our culture. ✓  
2) The black ant lay down to sleep near the grain. ✓  
3) Helping others makes people happy. ✓  
4) We should not help sick people. X



## SPECIAL ASSIGNMENT -16

### STANDARD- 2

SUB – COMPUTER (oral)

DATE:19.08.2020

#### LESSON 4( Using MS Windows )

---

- Answer the following questions.

**1. What is the use of the taskbar?**

Ans. The taskbar is used to open the program windows by clicking the icons present on it with a mouse.

**2. How will you exit from Windows?**

Ans. To exit from the Windows we have to follow the following steps:-

- a) Move the mouse pointer to Start and click.
- b) Move the mouse pointer to Shut down and click.
- c) Computer will shut down in some time.

- Match the following.

- |                                 |                       |
|---------------------------------|-----------------------|
| 1. Popular operating system     | A) Triangular symbols |
| 2. Initial screen of MS windows | B) Icons              |
| 3. Short-cuts                   | C) MS windows         |
| 4. Exploring Windows            | D) Desktop            |
| 5. Submenus                     | E) Start button       |

Ans. 1. C      2. D      3. B      4. E      5. A

- Draw and colour a computer and its various parts.



1. Tick ( ✓ ) the objects and write their names that we get from the trees.



Vegetables



Tea



Fruits

2. Name the plants to which these leaves belong.



1.

NEEM



2.

TULSI



3.

CORIANDER



4.

MINT



5.

LOTUS



6.

BANANA

3. The following animals live in forests. Write the names of these animals.

I sleep during the day and hunt at night.



1. **JACKAL**

I am also known as the 'river horse.'



2. **HIPPOPOTAMUS**

I cannot walk backwards.



3. **KANGAROO**

I have strong permanent horns.



4. **ANTELOPE**

I am great at hide and sick.



5. **OKAPI**

I am also known as the long – nosed crocodile.



6. **GHARIAL**

## Special Assignment 2020-21

Subject –Drawing

Class – Two

Name of the book – Art for generation-2

Fill colour in book (Page no. - 14 (Santa claus))